

## זריבת הדל - אַחַד קרררר - זרז ט

ענוד ט (מ 4 ענאקד)

מלומ, ידע כל עמל אכיר פי ארררל זריבת דל חסב הלרנון.

עמל פי ענוד א "כף חסב זריבת הדל والررب بعد خصم זריבת הדل" أرنا كف حسب זריבת הדل وررب  
العَمال بعد خصم زريبة الدخل.

עמל פי ענוד ב, "זריבת הדל פי تمثيلات مختلفة" أرنا تمثيلات مختلفة لدالة حساب الررب بعد خصم زريبة  
الدخل من ررب ما.




עמל פי ענוד ט, "العلاقة بين زريبة الدخل وبين الررب بعد خصم الزريبة" عرضنا وحلّلنا المعطيات حول خصم  
زريبة الدخل بطريقة جبرية وبطريقة بيانية واستنتجنا استنتاجات.

نأخذ في هذه الفعالية قرارات بالاعتماد على المعرفة التي جمعناها في العناقد السابقة.

### وصف وضيّة:

نسبة زريبة الدخل	x ررب شامل (الشكل) (درجات زريبة الدخل)	رقم درجة الزريبة	الررب الشامل: الررب الشامل المدفوع للعامل، قبل تنزيل أي خصم من الررب، مثل زريبة الدخل، تأمين وطني، وتأمين صحي. زريبة الدخل: الزريبة التي تفرضها الدولة على أجرة عمل كل واحد من مواطنيها*. درجات الزريبة: هي طريقة لحساب الزريبة المتبعة في دولة إسرائيل، ويتم بواسطتها حساب الزريبة المطلوب دفعها بحسب الررب. فيما يلي جدول درجات الزريبة (من موقع كل الحق ) يمكن تفسير المعلومات في ذلك كما يلي: إذا كان الدخل حتى 6,330 شيكل للشهر يتم خصم 10%؛ مقابل كل شيكل إضافي وحتى 9,080 شيكل للشهر يتم خصم 14%؛ مقابل كل شيكل إضافي وحتى 14,580 شيكل للشهر يتم خصم 20%؛ وهكذا .
10%	$0 < x \leq 6,330$	1	
14%	$6,330 < x \leq 9,080$	2	
20%	$9,080 < x \leq 14,580$	3	
31%	$14,580 < x \leq 20,260$	4	
35%	$20,260 < x \leq 42,160$	5	
47%	$42,160 < x \leq 54,300$	6	
50%	$x > 54,300$	7	

### مبنى العنود

مسألة هدف 3	مسألة هدف 2	مسألة هدف 1	
			

يُفضّل الاستعانة بالتطبيق.

## مسألة هدف 1

قَبِل راني عرضًا لترقية لوظيفة جديدة يكون فيها الراتب الشامل أعلى من راتبه الحالي.

هل من الجدير أن يقبل راني هذا العرض؟  
أ. اقرأوا ادعاءات راني، دعاء وإياد.

راني



راتبي الشامل اليوم هو 14,000 شيكل.  
سأحصل في الوظيفة الجديدة على زيادة بنسبة 10%.  
لذلك، سأكون في درجة ضريبية أعلى.  
لذا فإننا متخوَّف أن يكون راتبي الصافي أقل، لذا سأرفض الترقية.

دعاء



أكيد أنه أفضل لك أن تقبل الترقية.  
صحيح أن مبلغ الضريبة سيزيد، لكن راتبك بعد خصم الضريبة، هو أيضًا سيزيد أيضًا.

إياد



يُفضل ألا تقبل الترقية.  
تدفع اليوم 20% ضريبة دخل من راتبك  
لكن ستضطر أن تدفع من راتبك الجديد نسبة 31%،  
أي تدفع 11% زيادة، ولكن راتبك الشهري الشامل  
سيزيد فقط 10%.

تطرقوا لكل ادعاء وافحصوا أيًا منهم أصاب في ادعائه؟ فصلّوا كل اعتباراتكم واستعينوا بحسابات وتمثيلات مختلفة للدالة.

ب. ماذا كنتم تقترحون على راني؟  
اكتبوا اقتراحاتكم.

## مسألة هدف 2

هل يمكن ان يكون وضع يكون فيه زيادة في الراتب والانتقال على درجة ضريبية أعلى يؤدي إلى انخفاض في الراتب بعد خصم ضريبة الدخل؟  
 إذا نعم، عَيّنوا أية رواتب يمكن ان يحدث بها ذلك.  
 إذا لا، فسروا لماذا قراركم.

## مسألة هدف 3

حددوا إذا كان كل من الادعاءات التالية صحيح أم لا وعللوا قراركم.  
**ادعاء أ:** يمكن ان يكون وضع يدفع به العامل الموجود في درجة ضريبية 3 مبلغًا أكثر من 2,000 شاقلاً ضريبية دخل.  
**ادعاء ب:** يُمكن أن يكون فرق مقداره 10,000 شاقلاً بين راتبي عاملين موجودين في نفس درجة الضريبة.  
**ادعاء ت:** كلما كان الراتب الشامل في درجة ضريبية أعلى،  
 هكذا تكون وتيرة التغيير في المبلغ الكلي لضريبة الدخل أعلى.  
**ادعاء ث:** كلما كانت الراتب الشامل في درجة ضريبية أعلى،  
 هكذا تكون وتيرة تغيير الراتب بعد خصم الضريبة أعلى.